

Конспект НОД по математике

Тема: «В стране цифр»

Цель: Закрепление изученного материала.


Оборудование: карандаш или ручка, цветные карандаши, распечатанные задания.

Ход НОД:

Родитель: Жителям страны Цифрии так понравилось с тобой играть, что они приглашают тебя снова к ним в гости. И не просто в гости, а попутешествовать по их островам. Ну как, ты согласен? Тогда в путь!

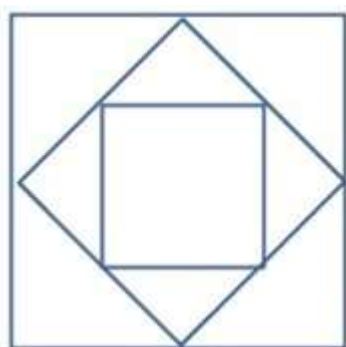
1: Остров «Вспомни, как меня зовут»

На этом острове живут друзья наших цифр, они просят тебя назвать их по имени и обвести.



2: Остров «Попробуй, сосчитай нас»

На этом острове живут геометрические фигуры. Они любят головоломки. Одну из них они приготовили для тебя. Твоя задача сосчитать, сколько квадратов и сколько треугольников на рисунке.




3: Остров «Не все так просто»

На этом острове цифры хотят проверить твою смекалку. Они будут задавать тебе загадки с подвохом. Чтобы найти правильный ответ, тебе необходимо сосредоточиться и рассмотреть головоломку с разных позиций.

1. На столе лежало 2 яблока. Одно разрезали. Сколько стало яблок?
2. На столе лежало 2 яблока и 2 груши. Сколько овощей на столе?
3. Наступил долгожданный январь. Сначала зацвела яблоня, а потом еще 3 сливы. Сколько деревьев зацвело?
4. У бабушки Даши внучка Маша, кот Пушок и собака Дружок. Сколько всего внуков у бабушки?
5. На березе три толстых ветки, на каждой толстой ветке по три тоненьких веточки. На каждой тоненькой веточке по одному яблочку. Сколько всего яблок?

4: Остров «Кто какого размера?»

Цифры просят помочь животным острова решить спор: обезьяна меньше льва, но больше лошади. Кто меньше всех? Ответ раскрась.



5: Остров «Разминка»

Чтобы ты не утомился, цифры приготовили для тебя уже знакомую тебе разминку.

Раз – подняться, потянуться.

Два – согнуться, разогнуться.

Три – в ладоши три хлопка.

На четыре – руки шире.

Пять – руками помахать.

Шесть – на другой остров плыть пора опять.

6: Остров «Спасательная операция»

Цифры 1 2 3 4 5 6 7 8 9 решили угостить тебя ягодами, которые растут в их лесу. Они так увлеклись, что не заметили, как заблудились. Помоги им найти дорогу домой.



7: Остров «Больше, меньше или равно?»

На этом острове живет Мудрец страны Цифрии. И он очень любит решать неравенства. Он приготовил и для тебя задание.

5	4	9	7	$4 > \square$	$5 < \square$
2	7	7	7	$3 = \square$	$6 > \square$
9	6	1	6	$7 < \square$	$8 = \square$
3	3	4	5	$9 = \square$	$7 > \square$

Родитель: Молодец! И вновь ты справился со всеми заданиями, которые приготовили тебе жители Цифрии. На память они дарят тебе раскраску.

1- оранжевый, 2- коричневый, 3- красный, 4- желтый, 5- зеленый, 6- розовый, 7- голубой

