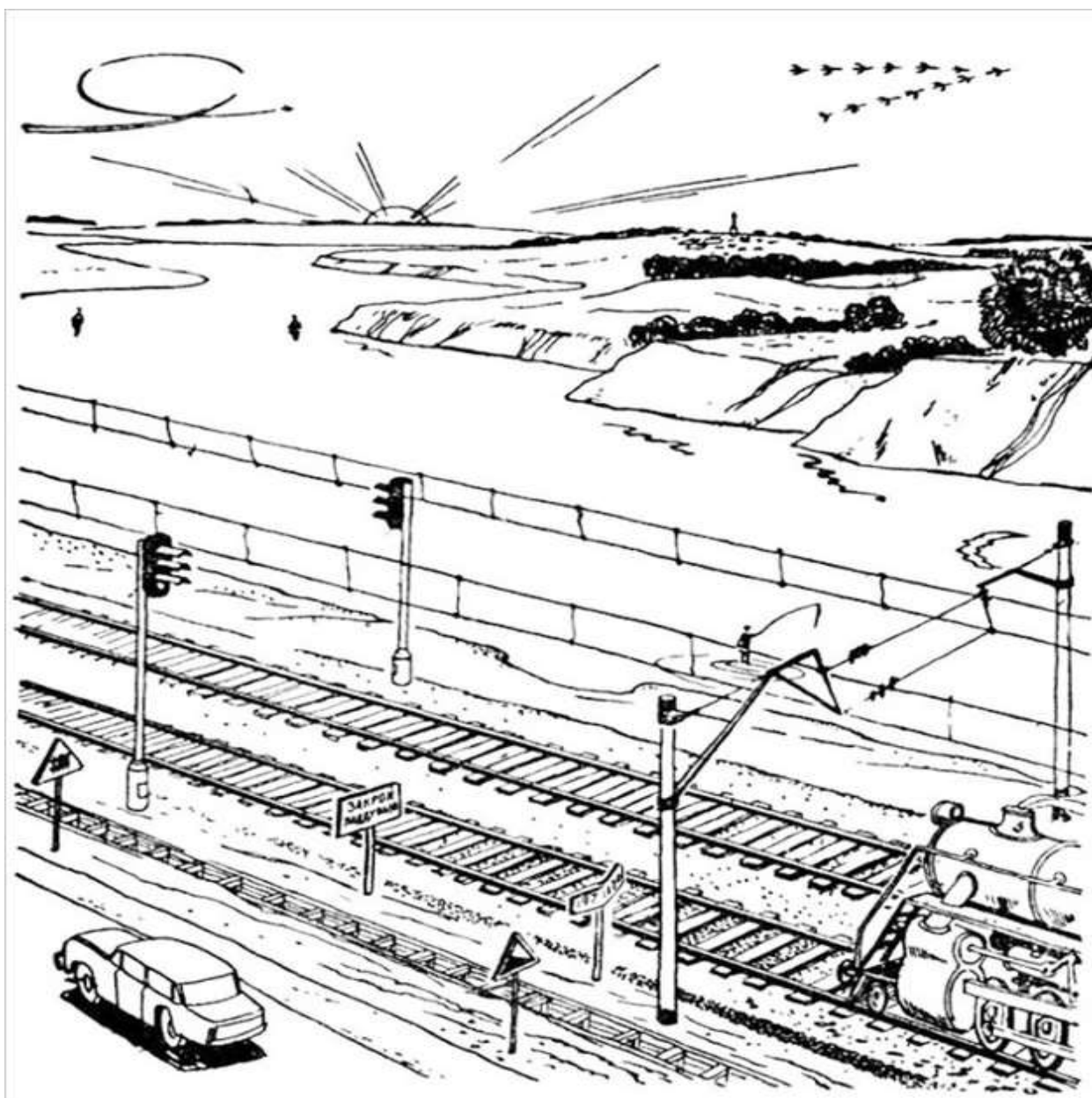


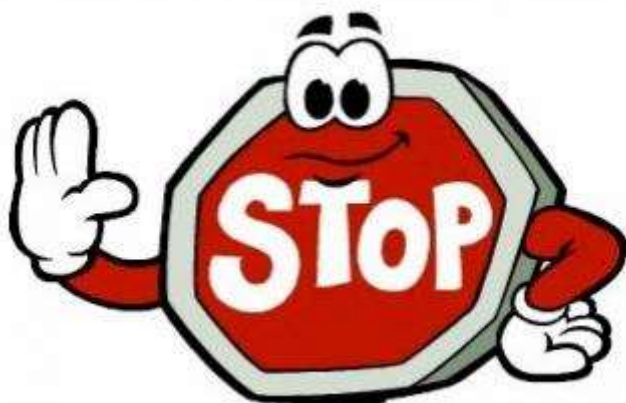
*Диагностическое занятие по логике*  
*Тема: «Проверка внимания и логики.»*  
*Подготовительная группа №5*

Задача-картинка "У дороги".  
Перед вами рисунок. Здесь изображена вымышленная местность. Ниже следуют вопросы, ответы на которые можно найти, внимательно посмотрев на этот рисунок, ведь здесь есть множество подсказок!



А теперь попробуйте ответить на эти вопросы:

1. Много ли времени осталось до новолуния?
2. Скоро ли наступит ночь?
3. Какое время года на рисунке?
4. В какую сторону течет река?
5. Судходна ли она?
6. С какой скоростью движется поезд?
7. Давно ли прошел здесь предыдущий поезд?
8. Долго ли будет двигаться машина вдоль железной дороги?
9. К чему должен подготовиться водитель?
10. Есть ли здесь поблизости мост?
11. Есть ли в этом районе аэродром?
12. Легко ли машинистам встречных поездов тормозить состав?
13. Дует ли ветер?



## **НЕ ПОДГЛЯДЫВАТЬ!**

Ответы:


1. Немного. Месяц старый (видно его отражение в воде).
2. Не скоро. Старый месяц виден на утренней заре.
3. Осень. По положению солнца легко сообразить, что журавли летят на юг.
4. У рек, текущих в Северном полушарии, правый берег крутой. Значит, река течет от нас к горизонту.
5. Судходна. Видны бакены.
6. Поезд стоит. Светится нижний глазок светофора — красный.
7. Недавно. Он находится сейчас на ближайшем блокировочном участке.

8. Дорожный знак показывает, что впереди железнодорожный переезд.
9. К торможению. Дорожный знак показывает, что впереди крутой спуск.
10. Вероятно, есть. Стоит знак, обязывающий машиниста закрыть поддувало.
11. В небе след самолета, сделавшего петлю. Фигуры высшего пилотажа разрешается делать только невдалеке от аэродромов.
12. Знак возле железнодорожного пути показывает, что встречному поезду придется подниматься вверх по уклону. Затормозить его будет нетрудно.
13. Дует. Дым паровоза стелется, а ведь поезд, как мы знаем, неподвижен.

Проверка внимания и логики.

## Задача-картинка "Девять вопросов".

Посмотрите на картинку и ответьте на 9 вопросов. Эта картинка была напечатана в детской книге еще в советские годы. Проверьте себя и своих детей.



1. Сколько человек проживает в лагере?
2. На чем ребята сюда доехали?
3. Сегодня ли они сюда приехали?
4. Далеко ли расположен ближайший населенный пункт?
5. Куда ушел мальчик, по имени Шура? Его на картинке не видно.
6. С какой стороны дует ветер? С юга или с севера?
7. Какое в данный момент время суток? Вечер, полдень или утро?
8. Кто из мальчиков дежурил вчера? Назовите его имя.
9. Число и месяц, которые запечатлены на картинке.



НЕ ПОДГЛЯДЫВАТЬ!

Справились? Думайте это невозможно? А теперь проверяйте.

1. В лагере проживает 4 человека. Это легко понять по количеству столовых приборов, или по графику дежурств на дереве.
2. Ребята приехали сюда на лодке. Обратите внимание на вёсла, прислоненные к дереву.
3. Дети приехали сюда довольно-таки давно. Обратите внимание на паутину между деревом и палаткой. Паук не свил бы паутину так быстро.
4. Ближайшее поселение находится не очень далеко. Обратите внимание на домашнюю курицу в нижнем левом углу. Видимо, она пришла сюда из деревни.
5. Вот нам и дали подсказку по именам. Теперь мы знаем, что четвертого мальчика зовут Шура. Куда же он делся? Обратите внимание на сачок за палаткой. Следовательно, Шура ловит бабочек.
6. Во-первых, флажок на палатке показывает направление

ветра. Слева-направо. Давайте разберемся, где находится север, а где юг. Обратите внимание на ели. Мы знаем, что еловые ветви с южной стороны всегда длиннее, чем с северной. Следовательно, юг расположен в левой части картинки, а север в правой. Следовательно, ветер дует с юга на север.

7. Определив направление сторон света, мы можем легко определить время суток по тени. Мальчик с поварешкой стоит лицом на север, значит по правую его руку у него восток, а по левую — запад. Его тень падает в западную сторону, следовательно, солнце находится на востоке, а значит сейчас утро.

8. Ничего сложного. Как мы видим, рюкзаки мальчиков подписаны первыми буквами их имён. Мальчик по имени Коля (на его рюкзаке буква К), сидит с левой части картинки, и что-то ищет в рюкзаке. Рюкзак с буквой «В», принадлежащий Васе, лежит возле палатки. Из него торчит фотоштатив. Сам Вася стоит с фотоаппаратом и делает снимки. Шура, как мы знаем, ловит бабочек сачком. Следовательно, согласно графику дежурств сейчас дежурит Петя. А значит, вчера дежурил Коля.

9. Число месяца вычислить легко. Нужно опять обратиться к графику дежурств. Сегодня восьмое число. Какой же месяц? Так как картинка советских времен, и импорт ягод и фруктов не был тогда развит настолько сильно, как сейчас, арбузы можно было купить лишь в августе. Так, как на картинке присутствует арбуз, следовательно, сейчас август. Итак, действия на картинке происходят восьмого августа.

*Проверка внимания и логики.  
Задачи - Головоломки в картинках на  
логику: Сможете разгадать?*

1. Знаменитая и относительно простая загадка. В какую сторону едет автобус?



Ответ:

Автобус едет влево. Это можно понять, так как на картинке не видно дверей, которые находятся у автобуса справа.

2. Очень простая задачка.

**В аквариуме 10 рыбок**

- 2 утонули
- 4 уплыли
- 3 погибли



**Сколько рыбок осталось?**

Ответ: Осталось также 10 рыбок, так как ни одна не покидала аквариум.

3. Вы точно сможете!

**ОТВЕТЬТЕ НА ВОПРОС:**

*Какой номер у парковочного места, на котором стоит автомобиль?*



Ответ: Цифра 87. Нужно перевернуть картинку.



4. Тут, кажется есть подвох!



Ответ: Никто не лжет. У Роберта есть три сестры и они врачи.

5. Сможете найти семь ошибок, допущенных художником?



Ответ:

1. Источник света луна, значит тень от вышки и знака отбрасывается не в ту сторону. От зайца и деревьев вообще нет теней.
2. Под ЛЭП всегда вырубают деревья, а тут они есть
3. На луне (на темном участке) нарисована звезда
4. Перевернута Большая медведица
5. По следам от машин непонятно как они разъехались - по логике следы должны были разойтись
6. На ЛЭП нет изоляторов
7. В ясную погоду от фар грузовика не может быть такого ореола.