



-1 $+1$

0	1	2	3	4	5	6	7	8	9	10	+	-
	11	12	13	14	15	16	17	18	19	20	=	
											<	>

Поставь в пустые кружочки нужные знаки:

$>$ (больше)

$<$ (меньше)


$=$ (равно)



4	○	5
5	○	5
6	○	4

8	○	7
5	○	6
9	○	2

Деревня



3	+		=	12
-		-		
	+	4	=	6
=		=		=
1	+		=	6




Впиши в пустые окошки «соседей» чисел.



Найди картинку и назови её.

От стрелки – 1 клетка вверх, 3 направо; от стрелки – 2 клетки вверх, 1 налево; от стрелки – 3 клетки вверх, 2 направо; от стрелки – 4 клетки вверх; от стрелки – 5 клеток вверх, 2 налево; от стрелки – 5 клеток вверх, 1 направо; от стрелки – 6 клеток вверх.



Физкультминутка



Раз, два, три, четыре, пять –

Все умеем мы считать.



Раз – подняться, потянуться.

Два – согнуться, разогнуться.

Три – в ладоши три хлопка,

Головою три кивка

На четыре – руки шире

Пять руками помахать.



Шесть – на место тихо сесть.



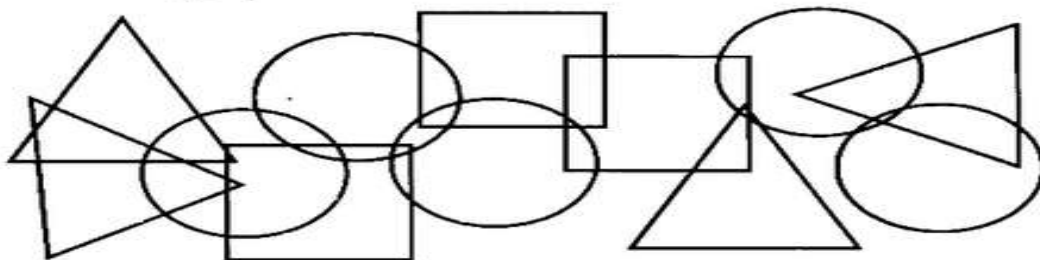
ГЕОМЕТРИЧЕСКИЕ ФИГУРЫ



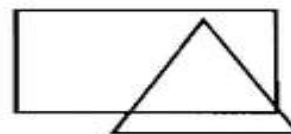
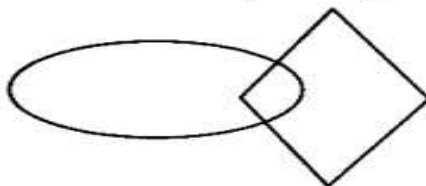
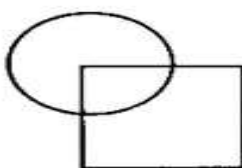
Обведи по точкам геометрические фигуры и назови их.



Сосчитай, сколько на рисунке квадратов, кругов и треугольников.



Раскрась фигуры разными цветами так, чтобы круг лежал на квадрате, овал — на ромбе, а треугольник — на прямоугольнике.



РАСПОЗНАВАНИЕ